

МИНИСТЕРСТВО ПРОСВЕЩЕНИЯ РОССИЙСКОЙ ФЕДЕРАЦИИ
Министерство образования и молодежной политики Владимирской
области

Управление образования администрации Камешковского района
МБОУ Гаврильцевская ООШ

«РАССМОТРЕНО»
на МС
Протокол № 1 от
29.08.2023

«ПРИНЯТО»
на Педагогическом Совете
Протокол № 1 от
31.08.2023

«УТВЕРЖДАЮ»
Директор
_____ (Л. В. Галанина)
приказ № _____
от 31.08.2023

РАБОЧАЯ ПРОГРАММА

внеурочной деятельности (общеинтеллектуальное направление:
реализация особых интеллектуальных и социокультурных потребностей обучающихся)

«Озадаченная физика» для 7 и 8 классов

на 2023/2024 учебный год

Учитель: Базанова А. В.

д. Гаврильцево, 2023

Рабочая программа внеурочной деятельности (естественно-научное направление) «Озадаченная физика» 7-8 класс (с использованием оборудования «Точка Роста») составлена на основе рабочей программы Клименок О.В., учителя физики и химии, МБОУ Киргинцевская СОШ Купинского района Новосибирской области, размещенной:

<https://nsportal.ru/shkola/fizika/library/2022/11/20/programma-vneurochnoy-deyatelnosti-estestvenno-nauchnoe-0>

I. Планируемые результаты освоения курса внеурочной деятельности по физике

Программа позволяет добиваться следующих результатов освоения курса внеурочной деятельности

Основная группа учащихся (включая интегрированных)			Дети с ОВЗ		
Предметные	Метапредметные	Личностные	Предметные	Метапредметные	Личностные
<ul style="list-style-type: none"> - уметь пользоваться методами научного исследования явлений природы; - проводить наблюдения, планировать и выполнять эксперименты; - обрабатывать результаты измерений; - представлять результаты измерений с помощью таблиц, графиков и формул; - обнаруживать зависимости между физическими величинами; - объяснять полученные результаты и делать выводы; - оценивать границы погрешностей результатов измерений; - уметь применять теоретические знания по физике на практике; - решать физические задачи на применение полученных знаний; - выводить из 	<p>Р. – уметь работать по предложенным инструкциям; умение излагать мысли в четкой логической последовательности; анализировать собственную работу; соотносить план и совершенные операции, выделять этапы и оценивать меру освоения каждого, находить ошибки, устанавливать их причины.</p> <p>П. – ориентироваться в своей системе знаний: отличать новое от уже известного; перерабатывать полученную информацию, делать выводы в результате совместной работы всего класса; уметь анализировать явления</p> <p>К. – уметь работать в паре и коллективе; эффективно распределять обязанности</p>	<ul style="list-style-type: none"> - развивать познавательные интересы, интеллектуальные и творческие способности учащихся; - мотивировать свои действия; выражать готовность в любой ситуации поступить в соответствии с правилами поведения; - воспринимать речь учителя (одноклассников), непосредственно не обращенную к учащемуся; - оценивать собственную учебную деятельность: свои достижения, самостоятельность, инициативу, ответственность, причины неудач 	<ul style="list-style-type: none"> - иметь представление о природе важнейших физических явлений окружающего мира и понимать смысл физических законов; - демонстрируют умение работать с разными источниками информации; - уметь применять теоретические знания по физике на практике; - уметь использовать полученные знания в повседневной жизни (экология, быт, охрана окружающей среды) - проводить 	<p>Р. – уметь работать по предложенным инструкциям; умение излагать свои мысли в логической последовательности;</p> <p>П. – умение отличать новое от уже известного; перерабатывать полученную информацию, делать выводы в результате совместной работы всего класса; уметь наблюдать и описывать явления</p> <p>К. – уметь работать в паре и коллективе;</p>	<ul style="list-style-type: none"> - развивать познавательные интересы; - мотивировать свои действия; - воспринимать речь учителя (одноклассников), непосредственно не обращенную к учащемуся; - оценивать собственную учебную деятельность

экспериментальных фактов и теоретических моделей физические законы; уметь докладывать о результатах своего	исследования; - участвовать в дискуссии, кратко и точно отвечать на вопросы; -использовать справочную литературу и другие источники информации.		наблюдения физических явлений; -измерять физические величины		
---	---	--	---	--	--

В процессе внеурочной деятельности в школе решаются следующие коррекционно-развивающие задачи:

1. Развитие и коррекция внимания

2. Формирование универсальных учебных умений

3. Развитие речи

Содержание внеурочной деятельности по физике «Озадаченная физика» 7 класс

№	Название раздела (темы)	Содержание учебного предмета, курса
1.	Первоначальные сведения о строении вещества	Цена деления измерительного прибора. Определение цены деления измерительного цилиндра. Определение геометрических размеров тела. Изготовление измерительного цилиндра. Измерение температуры тела. Измерение размеров малых тел. Измерение толщины листа бумаги.
2.	Взаимодействие тел	Измерение скорости движения тела. Измерение массы тела неправильной формы. Измерение плотности твердого тела. Измерение объема пустоты. Исследование зависимости силы тяжести от массы тела. Определение массы и веса воздуха. Сложение сил, направленных по одной прямой. Измерение жесткости пружины. Измерение коэффициента силы трения скольжения. Решение нестандартных задач
3	Давление. Давление жидкостей и газов	Исследование зависимости давления от площади поверхности. Определение давления твердого тела. Вычисление силы, с которой атмосфера давит на поверхность стола. Определение массы тела, плавающего в воде. Определение плотности твердого тела. Определение объема куска льда. Изучение условия плавания тел. Решение нестандартных задач
4	Работа и мощность. Энергия	Вычисление работы и мощности, развиваемой учеником при подъеме с 1 на 3 этаж. Определение выигрыша в силе. Нахождение центра тяжести плоской фигуры. Вычисление КПД наклонной плоскости. Измерение кинетической энергии. Измерение потенциальной энергии. Решение нестандартных задач.

8 класс

№	Название раздела (темы)	Содержание учебного предмета, курса
1.	Физический метод изучения природы: теоретический и экспериментальный	Определение цены деления приборов, снятие показаний. Определение погрешностей измерений.
2.	Тепловые явления и методы их исследования	Определение удлинения тела в процессе изменения температуры. Решение задач на определение количества теплоты. Применение теплового расширения для регистрации температуры. Исследование процессов плавления и отвердевания. Изучение устройства тепловых двигателей. Приборы для измерения влажности воздуха.
3.	Электрические явления и методы их исследования	Определение удельного сопротивления проводника. Закон Ома для участка цепи. Решение задач. Исследование и использование свойств электрических конденсаторов. Расчет потребляемой электроэнергии. Расчет КПД электрических устройств. Решение задач на закон Джоуля -Ленца.
4.	Электромагнитные явления	Получение и фиксированное изображение магнитных полей. Изучение свойств электромагнита. Изучение модели электродвигателя. Решение качественных задач.
5.	Оптика	Изучение законов отражения. Наблюдение отражения и преломления света. Изображения в линзах. Определение главного фокусного расстояния и оптической силы линзы. Наблюдение интерференции света. Решение задач на преломление света. Наблюдение полного отражения света.

Методы обучения и формы организации деятельности обучающихся

Реализация программы внеурочной деятельности «Озадаченная физика» предполагает индивидуальную и групповую работу обучающихся, планирование и проведение исследовательского эксперимента, самостоятельный сбор данных для решения практических задач, анализ и оценку полученных результатов, изготовление пособий и моделей. Программа предусматривает не только обучающие и развивающие цели, её реализация способствует воспитанию творческой личности с активной жизненной позицией. Высоких результатов могут достичь в данном случае не только ученики с хорошей школьной успеваемостью, но и все целеустремлённые активные ребята, уже сделавшие свой профессиональный выбор.

Обучение осуществляется при поддержке Центра образования естественно-научной направленности «Точка роста», который создан для развития у обучающихся естественно-научной, математической, информационной грамотности, формирования критического и креативного мышления, совершенствования навыков естественно-научной направленности, а также для практической отработки учебного материала по учебному предмету «Физика».

Тематическое планирование 7 класс

	Наименование раздела	Содержание	Количество часов	Форма занятия	Использование оборудования «Точка роста»	Дата
1		Вводное занятие. Инструктаж по технике безопасности. На базе Центра "Точка Роста"	1	беседа	Ознакомление с цифровой лабораторией "Точка роста" (демонстрация технологии измерения)	
I. Первоначальные сведения о строении вещества			2 ч			
2		Экспериментальная работа № 1 «Определение цены деления различных приборов». На базе Центра "Точка Роста"	1	эксперимент	Линейка, лента мерная, измерительный цилиндр, термометр, датчик температуры	
3		Экспериментальная работа № 5 «Измерение толщины листа бумаги»	1	эксперимент		
Глава II. Взаимодействие тел			9 ч			
4		Экспериментальная работа № 6 «Измерение скорости движения тел».	1	эксперимент		
5		Решение задач на тему «Скорость равномерного движения»	1	решение задач		
6		Экспериментальная работа №7 «Измерение массы 1 капли воды». На базе Центра "Точка Роста"	1	эксперимент	электронные весы	
7		Экспериментальная работа № 8 «Измерение плотности куска сахара» На базе Центра "Точка Роста"	1	эксперимент	Линейка, лента мерная, измерительный цилиндр, электронные весы	
8		Решение задач на тему «Плотность вещества».	1	решение задач		
9		Экспериментальная работа № 11 «Определение массы и веса воздуха в комнате»	1	эксперимент		
10		Экспериментальная работа № 13 «Измерение жесткости пружины»	1	эксперимент	Штатив с крепежом, набор пружин, набор грузов, линейка,	

		На базе Центра "Точка Роста"			динамометр	
11		Экспериментальная работа № 14 «Измерение коэффициента силы трения скольжения». На базе Центра "Точка Роста"	1	эксперимент	Деревянный брусок, набор грузов, механическая скамья, динамометр	
12		Решение задач на тему «Сила трения».	1	решение задач		
III. Давление. Давление жидкостей и газов			2ч			
13		Решение качественных задач на тему «Плавание тел».	1	решение задач		
14		Экспериментальная работа № 20 «Изучение условий плавания тел». На базе Центра "Точка Роста"	1	эксперимент	Динамометр, штатив универсальный, мерный цилиндр (мензурка), груз цилиндрический из специального пластика, нить, поваренная соль, палочка для перемешивания	
IV. Работа и мощность. Энергия			3ч			
15		Экспериментальная работа № 23 «Определение выигрыша в силе, который дает подвижный и неподвижный блок». На базе Центра "Точка Роста"	1	эксперимент	15	
16		Решение задач на тему «Работа. Мощность. Энергия».	1	решение задач	16	
17		Диагностика.	1	дидактическое задание		
Итого			17			

Тематическое планирование 8класс

	Наименование раздела	Содержание	Количество часов	Форма занятия	Использование оборудования «Точка роста»	Дата
И. Физический метод изучения природы: теоретический и экспериментальный			<u>3 ч</u>			
1		Вводное занятие. Инструктаж по технике безопасности. На базе Центра "Точка Роста"	1	беседа	Ознакомление с цифровой лабораторией "Точка роста"	
2		Экспериментальная работа № 1 «Определение цены деления приборов, снятие показаний» На базе Центра "Точка Роста"	1	эксперимент	Линейка, лента мерная, измерительный цилиндр, термометр, датчик температуры	
3		Определение погрешностей измерения. Решение качественных задач.	1	решение задач		
Глава II. Тепловые явления и методы их исследования			<u>4ч</u>			
4		Решение задач на определение количества теплоты.	1	решение задач		
5		Экспериментальная работа № 2 «Исследование процессов плавления и отвердевания». На базе Центра "Точка Роста"	1	эксперимент	Датчик температуры, калориметр, сосуд с тающим льдом, сосуд с водой, электронные весы.	
6		Приборы для измерения влажности. Экспериментальная работа № 3 «Определение влажности воздуха в кабинетах школы» На базе Центра "Точка Роста"	1	эксперимент	Датчик температуры, термометр, марля, сосуд с водой	
7		Решение качественных задач на определение КПД теплового двигателя. https://uchitel.pro/задачи-на-кпд-тепловых-двигателей/	1	решение задач		
III. Электрические явления и методы их исследования			<u>4 ч</u>			
8		Практическая работа № 2 «Определение удельного сопротивления различных проводников». На базе Центра "Точка Роста"	1	практическая работа	Датчик напряжения, вольтметр двухпредельный, источник питания, комплект проводов,	

					резисторы, ключ	
9		Закон Ома для участка цепи. Решение задач.	1	решение задач		
10		Практическая работа № 3 «Расчёт потребляемой электроэнергии собственного дома». На базе Центра "Точка Роста"	1	практическая работа	Датчик тока, датчик напряжения, амперметр двухпредельный, вольтметр двухпредельный, лампочка, источник питания, комплект проводов, ключ	
11		Решение задач на закон Джоуля - Ленца.	1	решение задач		
III. Электрические явления и методы их исследования			<u>2 ч</u>			
12		Получение и фиксированное изображение магнитных полей. На базе Центра "Точка Роста"	1	практическая работа	Демонстрация «Измерение магнитного поля вокруг проводника с током»: датчик магнитного поля, два штатива, комплект проводов, источник тока, ключ	
13		Изучение модели электродвигателя.	1	лекция, дем. эксперимент		
V. Оптика			<u>4</u>			
14		Экспериментальная работа № 4 «Наблюдение отражения и преломления света». На базе Центра "Точка Роста"	1	эксперимент	Осветитель с источником света на 3,5 В, источник питания, комплект проводов, щелевая диафрагма, полуцилиндр, планшет на плотном листе с круговым транспортиром	
15		Экспериментальная работа № 5 «Изображения в линзах». На базе Центра "Точка Роста"	1	эксперимент	Осветитель с источником света на 3,5 В, источник питания, комплект проводов, щелевая диафрагма, экран стальной, направляющая с измерительной шкалой, собирающие линзы, рассеивающая линза, слайд «Модель предмета» врейтере	
16		Решение задач на преломление и отражение светасвета.	1	решение		

				задач		
17		Диагностика	1	дидактическое задание		
Итого			17			

Оценивается самостоятельность выполнения задач, так же работа учащихся оценивается с учетом их активности, качества подготовленных выступлений, демонстрационных опытов, умений решения задач. Оценивается также участие в обсуждении, качество задаваемых вопросов, владением монологической и диалогической речью, уровень физической компетенции.

Итоговая диагностика по внеурочной деятельности учащихся 7-8 классов «**Озадаченная физика**» проводится в форме дидактического задания в целях определения степени освоения учащимися учебного материала по практической физике, в рамках освоения основной образовательной программы основного общего образования.

Задания ориентированы на проверку усвоения содержания разделов/тем:

- *взаимодействие тел (плотность вещества, сила трения, коэффициент трения) (модуль 7 класс);*
- *элементы статики, тепловые явления, электростатика, законы постоянного тока, законы оптики (модуль 8 класс);*

Форма - дидактическое задание (тесты, практические задания, решение творческих задач) составлены в двух вариантах.

Время выполнения работы – один урок.

План работы (7 класс)

Номер задания	Проверяемые элементы содержания	Проверяемые умения	Балл за выполнение задания
1	Практическая работа.	Умение собрать практическую установку согласно задания	1
2	Определительная формула величины	Знание формул плотность вещества, сила трения	1
3	Измерение физической	Умение пользоваться измерительными	1

	величины.	приборами, определять цену деления приборов, измерять физическую величину.	
4	Вычислительные навыки	Вычислять физическую величину, записывать результат в единицах измерения СИ	1

Максимальное количество баллов за выполнение работы составляет 10 баллов.

Отличный результат - 80-100% - 8-10 балла, хороший результат - 66%-79% - 7 баллов, удовлетворительный результат - 30%-65% - 6-3 балла

Неудовлетворительный результат - менее 30% - 0-2 балла.

Диагностика, 7 класс «Озадаченная физика»

Вариант №1

Используя рычажные весы, мерный цилиндр, стакан с водой, цилиндр, соберите экспериментальную установку для определения плотности материала, из которого изготовлен цилиндр.

В бланке ответов:

- сделайте рисунок экспериментальной установки для определения объема тела;
- запишите формулу для расчета плотности;
- укажите результаты измерения массы цилиндра и его объема;
- запишите численное значение плотности материала цилиндра.

Вариант №2

Используя брусок с крючком, динамометр с пределом измерения 1Н, динамометр с пределом измерения 5Н, 2 груза массой 100г, направляющая, соберите экспериментальную установку для определения коэффициента трения скольжения между бруском и поверхностью направляющей.

В бланке ответов:

- сделайте рисунок экспериментальной установки;

- запишите формулу для расчета коэффициента трения скольжения;
- Укажите результаты измерения веса бруска с грузами и силы трения скольжения при движении бруска с грузом по поверхности направляющей;
- Запишите численное значение коэффициента трения скольжения.

Ответы и критерии оценивания выполнения заданий (7 класс)

Вариант №1

1) $V = V_2 - V_1$

2) $\rho = m / V$

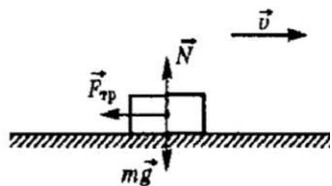
3) $m = 66 \text{ г}; V = 56 \text{ мл} = 56 \text{ см}^3;$ 4) $\rho = 1.2 \text{ г/см}^3 = 1200 \text{ кг/м}^3.$

Содержание критерия	Баллы
<p>Полностью правильное выполнение задания, включающее в себя:</p> <ul style="list-style-type: none"> • схематичный рисунок экспериментальной установки; • формулу для расчёта искомой величины по доступным для измерения величинам (<i>в данном случае для определения плотности тела</i>); • правильно записанные результаты прямых измерений (<i>в данном случае результаты измерения массы тела и объема тела</i>); • полученное правильное численное значение искомой величины 	4
<p>Приведены все элементы правильного ответа 1-4, но допущена ошибка при вычислении значения искомой величины. ИЛИ Допущена ошибка при обозначении единиц измерения искомой величины. ИЛИ Допущена ошибка в схематичном рисунке экспериментальной установки, или рисунок отсутствует, или отсутствует формула в общем виде для расчёта искомой величины</p>	3

<p>Сделан рисунок экспериментальной установки, правильно приведены значения прямых измерений величин, но незаписана формула для расчёта искомой величины, и не получен ответ. ИЛИ</p> <p>Правильно приведены значения прямых измерений величин, записана формула для расчёта искомой величины, но не получен ответ, и не приведён рисунок экспериментальной установки. ИЛИ</p> <p>Правильно приведены значения прямых измерений, приведён правильный ответ, но отсутствуют рисунок экспериментальной установки и формула для расчёта искомой величины</p>	2
<p>Записаны только правильные значения прямых измерений. ИЛИ</p> <p>Приведено правильное значение только одного из прямых измерений, и представлена правильно записанная формула для расчёта искомой величины. ИЛИ</p> <p>Приведено правильное значение только одного из прямых измерений, и сделан рисунок экспериментальной установки</p>	1
<p>Все случаи выполнения, которые не соответствуют вышеуказанным критериям выставления 1, 2, 3 или 4 баллов. Разрозненные записи. Отсутствие попыток выполнения задания</p>	0
<p>Максимальный балл</p>	4

Вариант №2

1)



2) $F_{\text{упр}} = F_{\text{тр}}$ (при равномерном движении);

$F_{\text{тр}} = \mu N$; $N = P \rightarrow F_{\text{тр}} = \mu P$; $\mu =$

3) $F_{\text{упр}} = 0,44 \text{ Н}; P = 2,8 \text{ Н}$

4) $\mu = 0,16$

Содержание критерия	Баллы
<p>Полностью правильное выполнение задания, включающее в себя:</p> <ul style="list-style-type: none"> • схематичный рисунок экспериментальной установки; • формулу для расчёта искомой величины по доступным для измерения величинам (в данном случае для определения коэффициента трения); • правильно записанные результаты прямых измерений (в данном случае результаты измерения веса тела с двумя грузами и силы трения скольжения); • полученное правильное численное значение искомой величины 	4
<p>Приведены все элементы правильного ответа 1-4, но допущена ошибка при вычислении значения искомой величины. ИЛИ Допущена ошибка при обозначении единиц измерения искомой величины. ИЛИ Допущена ошибка в схематичном рисунке экспериментальной установки, или рисунок отсутствует, или отсутствует формула в общем виде для расчёта искомой величины</p>	3
<p>Сделан рисунок экспериментальной установки, правильно приведены значения прямых измерений величин, но не записана формула для расчёта искомой величины, и не получен ответ. ИЛИ Правильно приведены значения прямых измерений величин, записана формула для расчёта искомой величины, но не получен ответ, и не приведён рисунок экспериментальной установки. ИЛИ Правильно приведены значения прямых измерений, приведён правильный ответ, но отсутствуют рисунок экспериментальной установки и формула для расчёта искомой величины</p>	2

<p>Записаны только правильные значения прямых измерений. ИЛИ Приведено правильное значение только одного из прямых измерений, и представлена правильно записанная формула для расчёта искомой величины. ИЛИ Приведено правильное значение только одного из прямых измерений, и сделан рисунок экспериментальной установки</p>	<p>1</p>
<p>Все случаи выполнения, которые не соответствуют вышеуказанным критериям выставления 1, 2, 3 или 4 баллов. Разрозненные записи. Отсутствие попыток выполнения задания</p>	<p>0</p>
<p><i>Максимальный балл</i></p>	<p>4</p>

План работы (8 класс)

Номер задания	Проверяемые элементы содержания	Проверяемые умения	Балл за выполнение задания
1.1	Явления теплопроводности	Объяснение явлений теплопроводности	1
1.2	Агрегатные состояния вещества	Чтение графиков нагревания тел.	1
1.3	Законы постоянного тока	Практические умения по работе с электроприборами. Умение нахождения величины экспериментальным методом	4
	ИТОГО		6
2.1	Явления теплопроводности	Объяснение явлений теплопроводности	1
2.2	Агрегатные состояния вещества	Чтение графиков охлаждения тел.	1
2.3	Законы постоянного тока	Практические умения по работе с электроприборами. Умение нахождения величины экспериментальным методом	4
	ИТОГО		6

Максимальное количество баллов за выполнение работы составляет 6 баллов.

Отличный результат- 80-100% - 5-6 балла, хороший результат- 66%-79% - 4 балла, удовлетворительный результат - 30%-65% - 2-3 балла, неудовлетворительный результат - менее 30% - 1 балл.

Диагностика, 8 класс
«Озадаченная физика» Вариант 1

1. На снег положили три куска сукна различной окраски: белый, черный и зеленый. Когда солнце пригрело, то спустя некоторое время под ними протаял снег (рис. 98). Каким номером на этом рисунке обозначено белое, черное и зеленое сукно?

1. Белое — 1, черное — 2, зеленое — 3.
2. Белое — 2, черное — 3, зеленое — 1.
3. Белое — 3, черное — 1, зеленое — 2.

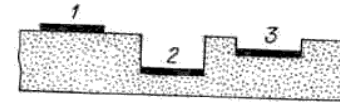


Рис. 98

2. При какой температуре начался процесс плавления?

1. 50 °С; 2. 100 °С; 3. 600 °С; 4. 1200 °С; 5. 1000 °С.

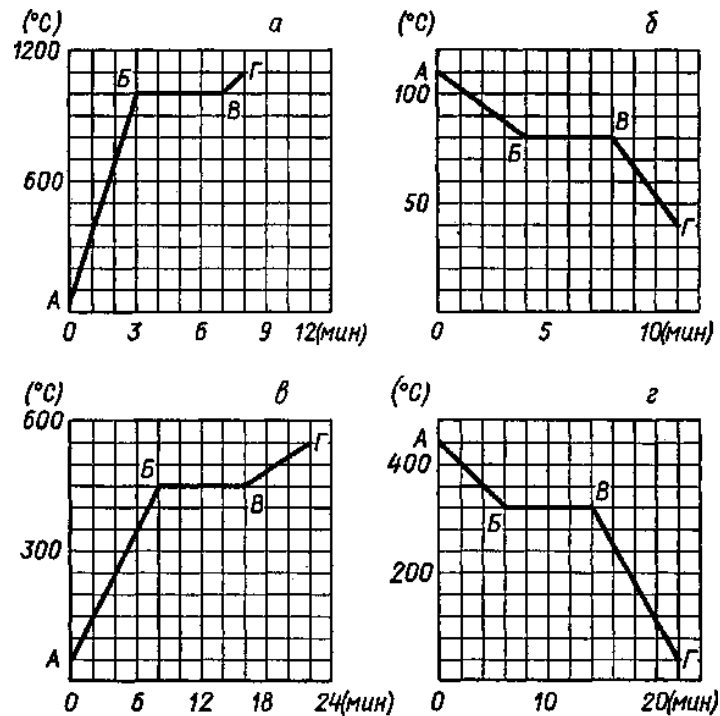


Рис. 101

1. Соберите цепь по схеме. Определите сопротивление электрических ламп используя амперметр, вольтметр.

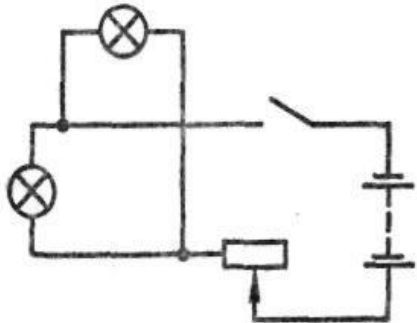
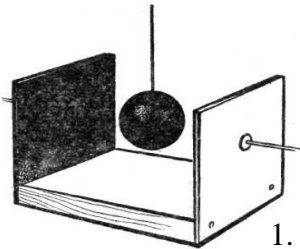


Рис. 176

**Промежуточная аттестация 8 класса
«Озадаченная физика» Вариант 2**



1. К дощечке прибиты два одинаковых листа белой жести. Внутренняя поверхность одного из них покрыта копотью, а другая оставлена блестящей. К наружной поверхности листов приклеены воском спички. Между листами помещают раскаленный металлический шарик (рис. 93). Одновременно ли отпадут спички от листов жести?

1. Одновременно.
2. От закопченной поверхности спички отпадут раньше.
3. От блестящей поверхности спички отпадут раньше.

2. При какой температуре начался процесс отвердевания?

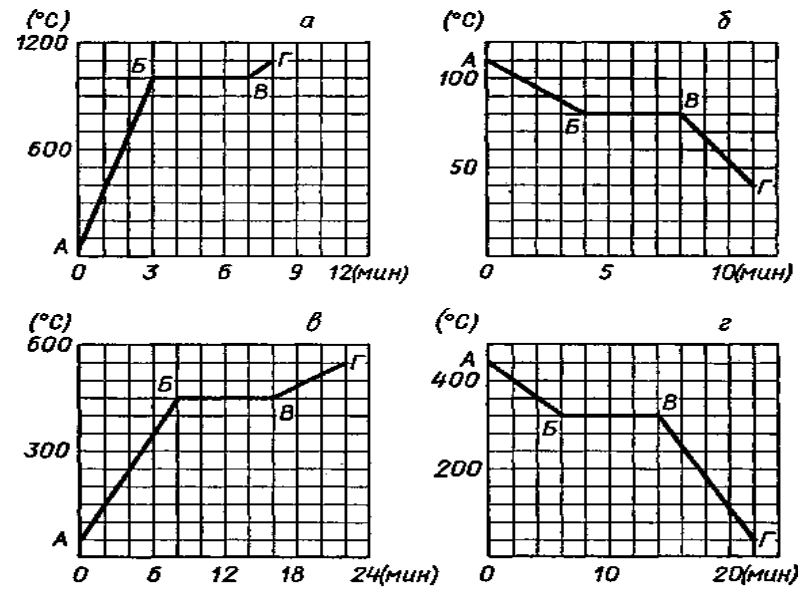


Рис. 101

1. 50 °C; 2. 80 °C; 3. 600 °C; 4. 1200 °C; 5. 1000 °C.

- Соберите цепь по схеме. Определите работу, выполненную электрическими лампами в течение 5 мин, используя амперметр, вольтметр, секундомер

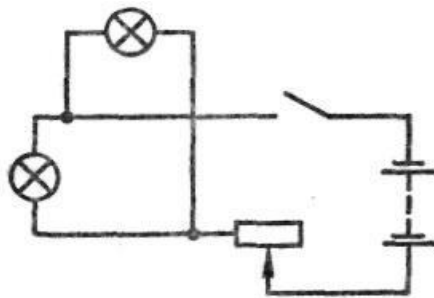


Рис. 176

Ответы и критерии оценивания выполнения заданий (8 класс)

1 вариант

- 1) 1
- 2) 5
- 3)
 1. Собрать цепь по схеме
 2. Подключить амперметр и вольтметр, учитывая правила подключения приборов.
 3. Провести прямые измерения (силы тока и напряжения)
 4. По вычислительной формуле определить искомую величину.

2 вариант

- 1) 2
- 2) 2
- 3)
 1. Собрать цепь по схеме.
 2. Подключить амперметр и вольтметр, учитывая правила подключения приборов.
 3. Провести прямые измерения (силы тока и напряжения).
 4. По вычислительной формуле определить искомую величину.

Информационно – методическое обеспечение

1. Внеурочная деятельность школьников. Методический конструктор: пособие для учителя/ Д.В. Григорьев, П.В. Степанов. – М.: Просвещение, 2011. – 223 с. -. (Стандарты второго поколения).
2. Внеурочная деятельность. Примерный план внеурочной деятельности в основной школе: пособие для учителя/. В.П. Степанов, Д.В. Григорьев – М.: Просвещение, 2014. – 200 с. -. (Стандарты второго поколения).
3. Рабочие программы. Физика. 7-9 классы: учебно-методическое пособие/сост. Е.Н. Тихонова.- М.:Дрофа, 2013.-398 с.
4. Занимательная физика. Перельман Я.И. – М. : Наука, 1972.
5. Хочу быть Кулибиным. Эльшанский И.И. – М. : РИЦ МКД, 2002.
6. Физика для увлеченных. Кибальченко А.Я., Кибальченко И.А.– Ростов н/Д. : «Феникс», 2005.
7. Как стать ученым. Занятия по физике для старшеклассников. А.В. Хуторский, Л.Н. Хуторский, И.С. Маслов. – М. : Глобус, 2008.
8. Фронтальные лабораторные занятия по физике в 7-11 классах общеобразовательных учреждений: Книга для учителя./под ред. В.А. Бурова, Г.Г. Никифорова. – М. : Просвещение, 1996. 12
9. Федеральный государственный образовательный стандарт [Электронный ресурс]. – Режим доступа: <http://standart.edu/catalog.aspx?Catalog=227>
11. Сайт Министерства образования и науки Российской Федерации// официальный сайт. – Режим доступа: <http://минобрнауки.рф/>
10. Методическая служба. Издательство «БИНОМ. Лаборатория знаний» [Электронный ресурс]. – Режим доступа: <http://metodist.lbz.ru/>
11. Игровая программа на диске «Дракоша и занимательная физика» [Электронный ресурс]. – Режим доступа: <http://www.media2000.ru/>
12. Развивающие электронные игры «Умники – изучаем планету» [Электронный ресурс]. – Режим доступа: <http://www.russobit-m.ru/>
13. Авторская мастерская (<http://metodist.lbz.ru>).
14. Алгоритмы решения задач по физике: festival.1september.ru/articles/310656
17. Формирование умений учащихся решать физические задачи: revolution.allbest.ru/physics/00008858_0.htm

